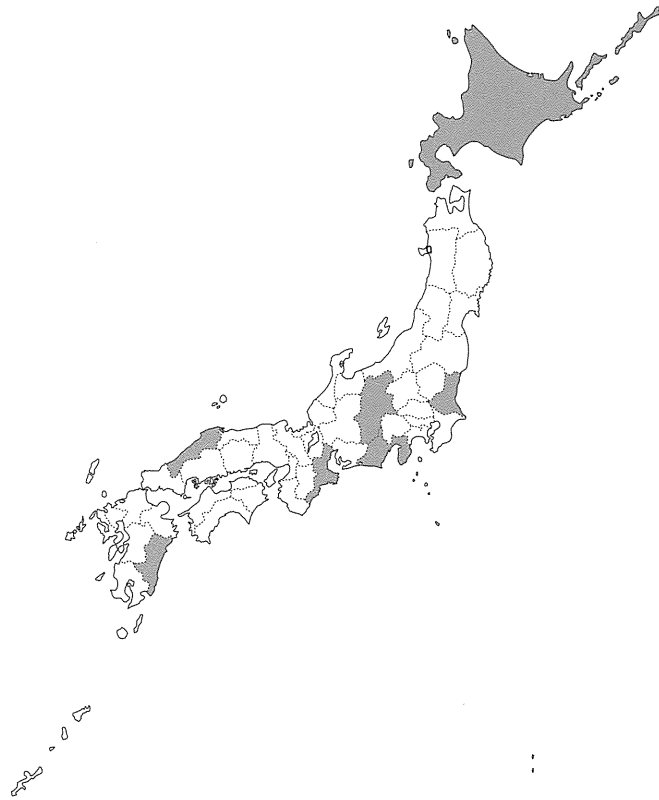


平成 25 年度 昭和女子大学附属昭和中学校入学考査問題 社会 A 日程

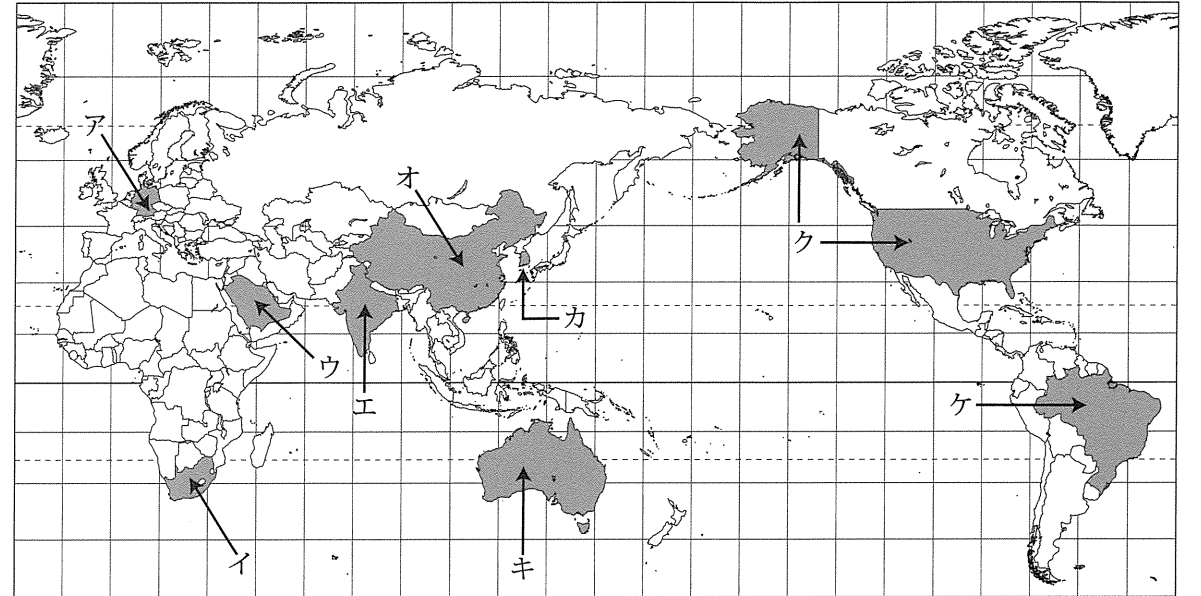
[1] 次の表は農産物の収穫量、家畜の頭数、魚の漁獲量、工業製品の出荷額について、それぞれ第3位までの都道府県を示したものです。空らん(①)～(⑥)には、下の地図の塗りつぶされた都道府県のどれかが入ります。あてはまる都道府県名を答えなさい。

品目	第1位	第2位	第3位
大豆	(①)	佐賀	宮城
レタス	(②)	(③)	群馬
きゅうり	(④)	群馬	福島
茶生葉	(⑤)	鹿児島	(⑥)
メロン	(③)	熊本	(①)
リンゴ	青森	(②)	岩手
肉用牛	(①)	鹿児島	(④)
豚	鹿児島	(④)	(③)
かつお類	(⑤)	(⑥)	宮城
さんま	(①)	宮城	岩手
パルプ・紙類	(⑤)	愛媛	埼玉
電子部品等	(⑥)	愛知	(②)

(『データブック オブ・ザ・ワールド』2012年版 二宮書店)



[2] 次の地図に示された国について、あとの問いに答えなさい。



問1 次の表は日本のおもな輸入相手国とその輸入品の内訳を示しています。①～⑤の国の位置を地図中のア～ケの中から1つずつ選び記号で答えなさい。

国	輸入総額(億円)	おもな輸入品および輸入にしめる割合(%)		
①	39,482	石炭 34.7	鉄鉱石 19.0	液化天然ガス 17.8
②	31,494	原油 90.5	液化石油ガス 4.2	揮発油 3.8
③	16,890	乗用車 18.6	電気機器 13.5	医薬品 13.0
④	134,130	電気機器 25.8	一般機械 16.8	衣類・同付属品 14.3
⑤	8,595	鉄鉱石 52.5	鶏肉 10.2	アルミニウム・アルミ合金 4.5

(『データブック オブ・ザ・ワールド』2012年版 二宮書店)

問2 次の特色にあてはまる国を、地図中のア～ケの中から1つずつ選び記号で答えなさい。

- (1) 大部分が砂漠で、イスラム教を国の宗教としている。
- (2) ガンジス川が流れ、人口は世界で2番目に多い。
- (3) ハングルという文字を使い、インターネットの利用がさかん。
- (4) 自動車社会で、国連の本部がおかれている。

平成 25 年度 昭和女子大学附属昭和中学校入学考査問題 社会 A 日程

[3] 次の会話文を読んで、あとの問いに答えなさい。

昭子さん：2012 年に日本文学研究者のドナルド・キーンさんが、日本国籍を取得したわね。ところで、外国の人はいつごろから日本にやって来たのかしら。

お姉さん：縄文時代の終わりごろ、①稲作の技術をもった人たちが日本にやってきたわ。そのあと、中国や朝鮮半島からたくさんの人が来日して、文化を伝えてくれたのよ。

昭子さん：その人たちは、どんな文化を伝えてくれたのかしら。

お姉さん：4 世紀から②5 世紀にかけて、渡来人が日本に移り住んで機織や儒教を伝え、6 世紀には医学や占い、暦の技術をもった人たちが来日したそうよ。仏教もこのころ朝鮮半島から伝わったわ。

昭子さん：(③) が定めた十七条の憲法にも仏教の考えが取り入れられているわね。技術だけではなくて、私たちの考え方も外国から伝わったものがあるのね。そのなかでも、特に仏教の影響は大きかったのでしょうか。

お姉さん：仏教に関しては、奈良時代に④東大寺の大仏がつけられたけれど、最後に目を入れる作業はインドの僧侶が行ったのよ。その翌年には、正しい仏教のありかたを日本に伝えるために、数回の失敗を乗り越えて中国から (⑤) が来日したの。

昭子さん：すごい苦労があったようね。ヨーロッパ人として初めて日本にやって来た⑥ポルトガル人も、大きな影響を与えたのでしょうか？

お姉さん：そうね。1549 年にスペイン人の (⑦) が鹿児島に着いてキリスト教を伝えたあとは、ポルトガル人も熱心に布教を行ったわ。また、江戸時代はオランダ人との関係が欠かせないわね。オランダ人とは鎖国中に長崎の (⑧) で貿易を行って、200 年以上も日本に外国の知識や情報を伝えてくれたの。そのおかげで、ペリーが来航することも事前に分かっていたのよ。

昭子さん：へえ、そうだったの。開国後は、たくさん外国の人が訪れたのでしょうか？

お姉さん：明治になると、お雇い外国人や⑨ビゴーのような画家も訪れたわ。日本は近代化をめざして進んでいったのよ。

昭子さん：今の日本があるのは、いろいろな国から来た人々のおかげととってもいいのかもしれないわね。⑩外国の人と仲良くしていくのは大切なことなのね。

問 1 文中の下線部①と関わりのないものを、次のア～エの中から 1 つ選び記号で答えなさい。

ア. くわ イ. 石包丁 ウ. はにわ エ. 高床倉庫

問 2 文中の下線部②のころにつくられた、埼玉県の稲荷山古墳と熊本県の江田船山古墳から、大和朝廷の大王の名前がぎざまれた剣や刀が見つかっています。その大王の名前をカタカナで答えなさい。

問 3 文中の空らん (③) にあてはまる人物を答えなさい。

問 4 文中の下線部④をつくらせた天皇を、次のア～エの中から 1 人選び記号で答えなさい。

ア. 推古天皇 イ. 聖武天皇 ウ. 桓武天皇 エ. 後醍醐天皇

問 5 文中の空らん (⑤) にあてはまる人物は失明しながらも来日し、のちに唐招提寺をつくりました。この人物の名前を答えなさい。


問 6 文中の下線部⑥が伝えたものとして正しくないものを、次のア～エの中から 1 つ選び記号で答えなさい。

ア. カルタ イ. 鉄砲 ウ. コンペイトウ エ. 三味線

問 7 文中の空らん (⑦) にあてはまる人物を答えなさい。

問 8 文中の空らん (⑧) にあてはまる場所を答えなさい。

問 9 下の絵は、文中の下線部⑨の人物が窓の外からある場面をながめている絵です。この場面の説明として正しいものを、次のア～エの中から 1 つ選び記号で答えなさい。



- ア. 自由民権運動をとりしまっている。
 イ. 五か条のご誓文を読み聞かせている。
 ウ. コレラの患者が診察の順番待ちをしている。
 エ. 五人組を捕まえて取り調べている。

問 10 文中の下線部⑩について、次のア～エの日本と外国とが交わした条約や宣言を、古いものから順に記号で答えなさい。

ア. 日朝平壤宣言 イ. サンフランシスコ平和条約
 ウ. 日米和親条約 エ. 日中平和友好条約

平成 25 年度 昭和女子大学附属昭和中学校入学考査問題 社会 A 日程

[4] 次の文の空らん(①)～(④)にあてはまる語句を答えなさい。

- (1) 都道府県や市町村のように、一定の地域における地方の行政の単位を(①)といいます。
- (2) 2012年5月、鹿児島県の(②)にある宇宙センターから、H2Aロケット21号機が打ち上げられ、初めて外国の観測衛星を予定の軌道に乗せることに成功しました。
- (3) 2012年6月、ミャンマーの民主化運動の指導者アウン・サン・スー・チー氏が、ノルウェーの首都オスロで(③)平和賞の受賞演説を行いました。
- (4) 2012年7月、アメリカ軍の垂直離着陸輸送機MV22オスプレイを積んだ船が、山口県岩国市のアメリカ海兵隊岩国基地に着きました。その後オスプレイは10月に(④)県に配備されました。

[5] 次の(1)～(4)の各文の空らん(①)・(②)に入る数字を合計するといくつになりますか。合計した数字を、それぞれ答えなさい。

- (1) 日本では、都道府県議会議員への投票権は(①)歳以上の人に認められています。また、都道府県議会議員に立候補できる年齢は衆議院議員と同じで、(②)歳以上と決められています。
- (2) ・衆議院議員の任期は(①)年ですが、その任期の途中に解散することがあるため、国民の意思が反映されやすいといわれています。
・2012年8月、参議院において、民主党・自民党・公明党などの賛成多数で、消費税に関する法案が可決されました。これにより消費税は、2014年4月から(②)%、2015年10月から10%になる予定です。
- (3) ・日本の裁判では(①)審制がとられており、判決に不満がある場合はさらに上級の裁判所で裁判を受けることができます。
・国際連合の安全保障理事会で拒否権を持っている常任理事国は(②)カ国あります。
- (4) ・2011年10月31日、国連人口基金は世界の人口が(①)億人に達したと発表しました。
・海岸線から12海里までは領海とよばれ、その国の主権が及ぶ地域です。領海の外側で海岸線から(②)海里までは排他的経済水域とよばれ、その水域の水産資源や鉱産資源はその国のものとされます。

[6] 次の文章を読んで、あとの問いに答えなさい。

日本には、古くから伝わる祭りが各地にあります。よく知られているものには、青森ねぶたまつり、秋田竿燈まつり、①仙台七夕まつり、祇園祭、阿波踊り、博多どんたく港まつりなどがあります。囃子や太鼓の音が響くなか、多くの人たちが掛け声をあげながら御輿をかついだり、はなやかな装飾がほどこされた山車を動かしたりする様子は、見る者に元気や勇気、感動を与えてくれます。祭りにはそれを楽しみながら、神や仏、祖先の霊などを敬い、なぐさめ、魂をしずめたり、感謝、祈願したりする意味があります。最近では東日本大震災からの復興への祈りをこめて行われたものもありました。

日本では、政治は「まつりごと」とよばれ、神や霊との深いかかわりがありました。邪馬台国の女王(1)は、神霊や精霊のこたばを伝える力をもっていたのではないかといわれ、のちに天皇とよばれる大王も、始祖の霊から霊威とよばれるものを受け継ぐことで日本を治めてきたといわれています。奈良時代の歴史書では天皇は神の子孫であると述べられるようになり、貴族や武士が政治の主役となった時代にも、天皇との関係を深めることが地位を高めるために必要とされました。天皇は、明治時代には国の政治の中心にいましたが、戦後につくられた日本国憲法では、日本国と日本国民統合の(2)となりました。

祭りは、地域の人たちを結びつける大切な伝統行事であるだけでなく、(3)資源としても大きな役割をはたしています。祭りを見ようと多くの人々が(3)を訪れることで、地域経済がうるおうことになるのです。

祭りは、それを支える人たちがいて行うことができます。②地域の産業や経済の振興をはかるとともに、伝統文化の新たな担い手となる人たちを育てることがこれからも大切です。

問1 文中の空らん(1)～(3)にあてはまる言葉を答えなさい。

問2 文中の下線部①がおこなわれる都道府県名を答えなさい。

問3 文中の下線部②について、都道府県とその伝統工芸品の組み合わせの中で正しくないものを、次のア～エの中から1つ選び記号で答えなさい。

- ア. 岐阜 — 美濃焼
- イ. 石川 — 輪島塗
- ウ. 香川 — 丸亀うちわ
- エ. 佐賀 — 南部鉄器

[1]

①		②	
③		④	
⑤		⑥	

[2]

問 1	①		②		③		④		⑤	
-----	---	--	---	--	---	--	---	--	---	--

問 2	(1)		(2)		(3)		(4)	
-----	-----	--	-----	--	-----	--	-----	--

[3]

問 1		問 2	
-----	--	-----	--

問 3		問 4	
-----	--	-----	--

問 5		問 6	
-----	--	-----	--

問 7		問 8	
-----	--	-----	--

問 9		問 10	→	→	→
-----	--	------	---	---	---

[4]

①		②	
③		④	

[5]

(1)		(2)	
(3)		(4)	

[6]

問 1	(1)		(2)	
	(3)			

問 2		問 3	
-----	--	-----	--

受験番号		氏名	
------	--	----	--

平成25年度 昭和女子大学附属昭和中学校入学考查問題

【社会・理科】

A日程

合図があるまで問題用紙を開かずに下の注意をよく読みましょう。

〔注意〕

1. 試験時間は社会と理科を合わせて60分です。
2. 社会の問題用紙は3枚です。
理科の問題用紙は3枚です。
3. 社会の解答用紙は1枚です。
理科の解答用紙は1枚です。
4. それぞれの解答用紙に受験番号と氏名を記入してください。
5. 解答はすべて解答用紙に記入してください。
6. 漢字で書けるところは漢字で書いてください。