

平成 24 年度 昭和女子大学附属昭和中学校入学考査問題 社会 A 日程

[1] 次の表は、都道府県の人口第 1 位・第 2 位の都市を示したものです。これを見て、あとの問いに答えなさい。

都道府県	第 1 位	第 2 位	都道府県	第 1 位	第 2 位
北海道	札幌	旭川	滋賀	大津	草津
青森	青森	八戸	京都	京都	宇治
岩手	盛岡	奥州	大阪	大阪	堺
宮城	仙台	石巻	兵庫	神戸	姫路
秋田	秋田	横手	奈良	奈良	橿原
山形	山形	鶴岡	和歌山	和歌山	田辺
福島	いわき	郡山	鳥取	鳥取	米子
茨城	水戸	つくば	島根	(2)	出雲
栃木	宇都宮	小山	岡山	岡山	倉敷
群馬	高崎	(1)	広島	広島	福山
埼玉	さいたま	川口	山口	下関	山口
千葉	千葉	船橋	徳島	徳島	阿南
東京	23 区	八王子	香川	高松	丸亀
神奈川	横浜	川崎	愛媛	松山	今治
新潟	新潟	長岡	高知	高知	南国
富山	富山	高岡	福岡	福岡	北九州
石川	金沢	白山	佐賀	佐賀	唐津
福井	福井	坂井	長崎	長崎	佐世保
山梨	甲府	甲斐	熊本	熊本	八代
長野	長野	松本	大分	大分	別府
岐阜	岐阜	大垣	宮崎	宮崎	都城
静岡	浜松	静岡	鹿児島	鹿児島	霧島
愛知	名古屋	豊田	沖縄	那覇	沖縄
三重	四日市	津			

『日本国勢図会 2011/12』

問 1 表の中の空らん (1)・(2) にあてはまる、県庁所在地になっている都市名を答えなさい。

問 2 表の中に都道府県庁所在地が示されていない都道府県名を答えなさい。

問 3 表の中で、一番人口が多い都市は東京都の 23 区ですが、2 番目、3 番目に多い都市をそれぞれ答えなさい。

問 4 次のア～エの都道府県のうち、表に示された 2 つの都市が同じ平野にあるものを 1 つ選び記号で答えなさい。また、その平野の名前も答えなさい。

ア. 青森県 イ. 三重県 ウ. 兵庫県 エ. 熊本県

問 5 次のア～エの都道府県のうち、表に示された 2 つの都市が同じ川の上流と下流の関係にあるものを 1 つ選び記号で答えなさい。

ア. 岩手県 イ. 富山県 ウ. 奈良県 エ. 佐賀県

問 6 次の特徴をもった都市を、表の中から選び答えなさい。

(1) 米の栽培がさかんな庄内平野にある城下町。

(2) 大淀川が流れる盆地の中にあり、シラスとよばれる火山灰もみられる都市。

(3) タオルの生産が日本で、造船業もさかんな、瀬戸内海に面した都市。

(4) 楽器やバイクの生産がさかんな、太平洋に面した都市。

(5) 鋳物の町として知られ、生産がさかんな時期には煙突が多くみられた。東京のベッドタウンとして発展した都市。

平成 24 年度 昭和女子大学附属昭和中学校入学考査問題 社会 A 日程

[2] 次の文章を読んで、あとの問いに答えなさい。

「菓子」には、現在、さまざまな種類があります。今日の「和菓子」の原型と考えられている食べ物は、奈良時代に中国から入ってきました。それは、小麦粉などをこねて丸めたものを油で揚げた食べ物で、のちに「(1) 菓子」とよばれるようになりました。「(1) 菓子」はおもに神社や寺院にそなえる食べ物として用いていました。また、貴族が食べることがほとんどで、一般にはあまり普及しませんでした。

①平安時代になり、餅粉と甘葛を使用し、椿の葉で包んだ「椿餅」や、よもぎを使用した「草餅」といったものがつくられ、これは、②貴族の間で宴席のときなどに食べられるようになりました。

鎌倉時代になり、中国から「点心」が日本にもたらされました。このころ伝わった③禅宗の影響もあり、日本では「点心」を参考に、小豆あんを使った「饅頭」が考案されたといわれています。

④室町時代になると、このような饅頭が、お茶と一緒に食べる菓子として好まれるようになりました。小豆あんには砂糖が使われていますが、砂糖は、貿易品の一つで、まだまだ高価なものでした。室町時代後半、16 世紀中頃になると、⑤南蛮菓子といわれるものが見られるようになりました。これは、キリスト教の伝来により来日した宣教師や貿易船の来航によるとされています。このときに、「カステラ」や「金平糖」などがもたらされました。宣教師のルイス＝フロイスが京都で⑥織田信長と面会したときに献上した品の中にも、「金平糖」がふくまれていました。こうして日本にもたらされた「南蛮菓子」は、同じころに発達した茶道のお茶請けとして使われたこともあり、全国に広まっていきました。

⑦江戸時代になると、国内でも⑧砂糖の製造が進むようになったこともあり、「南蛮菓子」は国内に根づいていきました。また、今日、「和菓子」とよばれるものの多くは、江戸時代からつくられ始めたものです。

明治時代になり、文明開化の名のもとに、外国の文化が日本にもたらされ、「洋菓子」が日本でも見られるようになりました。初めのうちは、バターやミルクといった食材になじむことができませんでした。しかし、しだいに関心が高まり、明治 8 年に東京京橋の風月堂でビスケットが製造されました。これが、日本で最初につくられた「洋菓子」といえるでしょう。

昭和時代になり、とくに戦時中は、砂糖は貴重品として軍の統制下におかれ、ビスケットやキャラメル、ドロップなどは切符制で取りあつかわれ、戦争末期の菓子店はほとんど営業ができなかったそうです。⑨戦後になり、食糧事情の改善もあり、再び「お菓子」の生産が盛り返してきました。昭和 30 年代以降になると、冷蔵技術の発達もあり、ケーキやシュークリーム、プリンといった「生菓子」が定着するようになりました。

問 1 文中の空らん (1) にあてはまる、この時代にあった中国の王朝名を答えなさい。

問 2 文中の下線部①の時代に中国に渡り、日本に帰国したのち、天台宗を広めた人物を、次のア～エの中から 1 人選び記号で答えなさい。

ア. 空海 イ. 最澄 ウ. 鑑真 エ. 日蓮

問 3 文中の下線部②の代表的一族が、天皇家に娘を嫁がせ、政治の重要職を独占するなどした政治を何というか答えなさい。

問 4 文中の下線部③は坐禅により悟りを開くものですが、禅宗の宗派とそれを開いた人物の組み合わせとして、正しいものを次のア～エの中から 1 つ選び記号で答えなさい。

ア. 法然……浄土宗 イ. 親鸞……浄土真宗

ウ. 栄西……臨済宗 エ. 一遍……時宗

問 5 文中の下線部④のころの文化としてあてはまらないものを、次のア～エの中から 1 つ選び記号で答えなさい。

ア. 能 イ. 水墨画 ウ. 狂言 エ. 浮世絵

問 6 文中の下線部⑤にあてはまる国名の組み合わせで正しいものを、次のア～エの中から 1 つ選び記号で答えなさい。

ア. スペイン・ポルトガル イ. スペイン・フランス

ウ. ポルトガル・イギリス エ. スペイン・イギリス

問 7 文中の下線部⑥は、積極的に宣教師らと交流を持ち、キリスト教を保護する一方で、仏教勢力をおさえようとしてしました。この人物がおさえた、大阪にあった一向一揆の中心となった寺の名前を答えなさい。

問 8 文中の下線部⑦の幕府を開いた人物をまつた、栃木県にある神社の名前を答えなさい。

問 9 文中の下線部⑧の製造を江戸時代に行っていた代表的な藩としてあてはまるものを、次のア～エの中から 1 つ選び記号で答えなさい。

ア. 仙台藩 (宮城県) イ. 長州藩 (山口県)

ウ. 薩摩藩 (鹿児島県) エ. 水戸藩 (茨城県)

問 10 文中の下線部⑨に、日本の統治にあたった G H Q の最高司令官は誰か答えなさい。

平成 24 年度 昭和女子大学附属昭和中学校入学考査問題 社会 A 日程

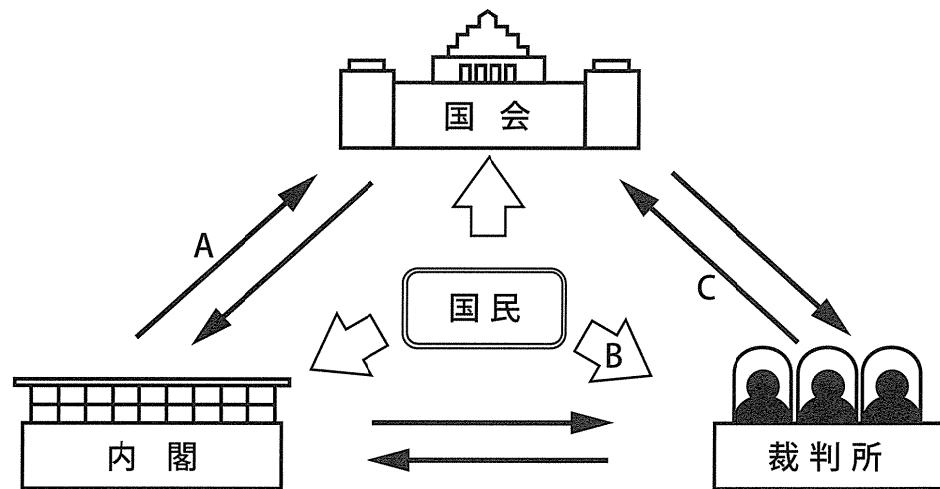
[3] 次の文章を読んで、あとの問いに答えなさい。

日本では国会、内閣、裁判所の3つの機関が仕事を分担し、1つの機関に権力が集まりすぎないように、三権分立の制度が取り入れられています。下の図は日本の三権分立を表したものです。

三権分立は日本の政治の基本ですが、現在、それに対してさまざまな意見があります。

「ブログ市長」としてマスコミでも話題になり、2010年にリコールが成立した前阿久根市長は、国会、内閣、裁判所に、社会で大きな影響力を持つ(1)を第4の権力として加え、「四権分立」と表現しました。

2011年5月には、参議院議長が、東日本大震災の復興がなかなか進まないなか、当時の①内閣総理大臣に対して速やかな退陣を求めたことがありました。これに対して、②内閣の中からは、③国会で選ばれた参議院議長が、同じく国会で選ばれた総理大臣に辞任を要求するというのは正常な形ではない、という意見もありました。



問1 図中のA～Cの矢印の内容としてふさわしいものを、次のア～キの中からそれぞれ1つずつ選び記号で答えなさい。

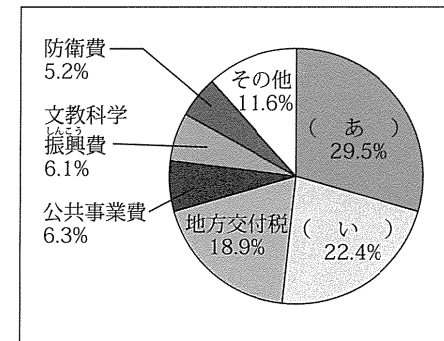
- ア. 最高裁判所の裁判官にふさわしいかどうかを審査する。
- イ. 最高裁判所の裁判官を任命する。
- ウ. 法律が憲法に違反していないか調べる。
- エ. 選挙を通じて国民の代表を選ぶ。
- オ. 国事行為の助言と承認を行う。
- カ. 内閣総理大臣を指名する。
- キ. 衆議院を解散する。

問2 文中の空らん(1)にあてはまる言葉を、文中から抜き出して答えなさい。

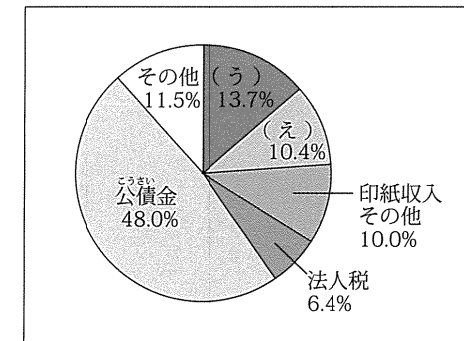
問3 文中の下線部①は、現在誰ですか。その姓名を答えなさい。

問4 文中の下線部②が、2011年に行われたサッカー女子ワールドカップドイツ大会において優勝した「なでしこジャパン」に対し、社会に明るい希望を与えたという業績をたたえて贈った賞の名前を答えなさい。

問5 文中の下線部③で作成された昨年度の国家予算の内訳が次に示されています。グラフの中の(あ)～(え)にあてはまる言葉を、下の(1)～(4)の説明を参考に、あとのア～クの中から1つずつ選び記号で答えなさい。



歳出 (一年間の支出)



歳入 (一年間の収入)

- (1) (あ) は年金や医療、福祉などに使用される。
- (2) (い) は財政難を解消するために国民から借りたお金を返済するために使用される。
- (3) (う) は個人が会社などにつとめて得た給料などに課せられた税である。
- (4) (え) は商品の値段に一定の割合で課せられた税である。

- ア. 所得税 イ. 福祉目的税 ウ. 相続税 エ. 消費税
- オ. 社会保障費 カ. 土木関係費 キ. 国債費 ク. 民生費

平成 24 年度 昭和女子大学附属昭和中学校入学考査問題 社会 A 日程

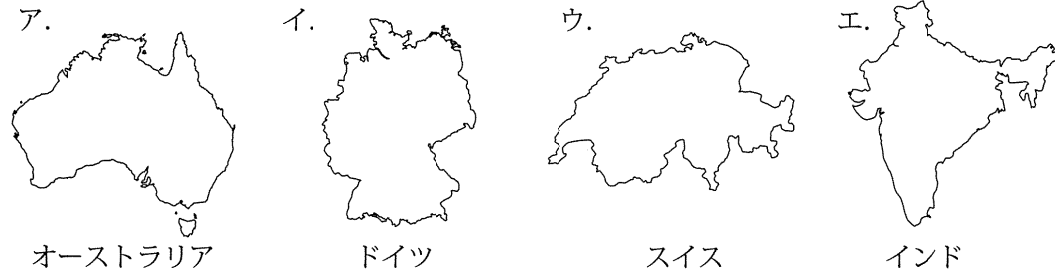
[4] 次の文章を読んで、あとの問いに答えなさい。

2011 年は①国際連合の定める国際森林年でした。森林は生物の住みかとなるだけでなく、二酸化炭素を吸収したり、水をたくわえたりする機能があり、砂漠化の防止など環境保全にも欠かせません。国際食糧農業機関によると、世界全体で 2000 年からの 5 年間のうちに、②日本列島の面積とほぼ同じくらいの③森林が失われています。

日本の国土の約 70% は森林です。国土に占める森林の割合は先進国の中でトップクラスです。古代から日本人は木とともに生活してきました。奈良県にある世界最大級の木造建築である(1)や現存する世界最古の木造建築である(2)などは、日本が誇る建造物です。また、建築だけでなく家具や紙などでも多くの木材を自給してきました。しかし、昭和 30 年代の木材の輸入自由化とともに日本の木材自給率は下がり始め、現在では 27.8% (2009 年) と、他国と比べて低い水準になっています。こういった状況もあり、高齢化や後継者不足などから十分な手入れができず、荒れていく森林が増えています。

問 1 文中の下線部①の本部が置かれている都市名を答えなさい。

問 2 文中の下線部②とほぼ同じ面積である国を、次のア～エの中から 1 つ選び記号で答えなさい。



問 3 文中の下線部③の理由のうち、次のア～エの中からもっとも適切なものを 1 つ選び記号で答えなさい。

- ア. 必要以上の農薬を使用しているため
- イ. 汚水が海や川に流出されているため
- ウ. 空気中にフロンガスやメタンガスが大量に放出されているため
- エ. 薪を燃料として大量に使用しているため

問 4 文中の空らん(1)、(2)にあてはまる寺院を、次のア～オの中から 1 つずつ選び記号で答え、また、それを建立した人物をそれぞれ答えなさい。

- ア. 中尊寺 イ. 延暦寺 ウ. 法隆寺 エ. 円覚寺 オ. 東大寺

平成 24 年度 昭和女子大学附属昭和中学校入学考査問題 解答用紙 社会 A 日程

[1]

問 1	(1)		(2)	
-----	-----	--	-----	--

問 2	
-----	--

問 3	2 番目		3 番目	
-----	------	--	------	--

問 4	記号		名前		問 5	
-----	----	--	----	--	-----	--

問 6	(1)		(2)	
	(3)		(4)	
	(5)			

[2]

問 1		問 2		問 3	
-----	--	-----	--	-----	--

問 4		問 5		問 6		問 7	
-----	--	-----	--	-----	--	-----	--

問 8		問 9		問 10	
-----	--	-----	--	------	--

[3]

問 1	A		B		C	
-----	---	--	---	--	---	--

問 2	
-----	--

問 3		問 4	
-----	--	-----	--

問 5	(あ)		(い)		(う)		(え)	
-----	-----	--	-----	--	-----	--	-----	--

[4]

問 1		問 2		問 3	
-----	--	-----	--	-----	--

問 4	(1)	寺院		人物	
	(2)	寺院		人物	

受験番号		氏名	
------	--	----	--