

2024 年度 昭和女子大学附属昭和中学校 入学考査問題 社会 B 日程

1 次の文章を読んで、あとの問いに答えなさい。

日本は昔から多様な文化を受容してきた歴史があります。①日本は島国ですが、②平安時代や江戸時代に国どうしの交流が薄れた一時期をのぞき、他国と積極的に交流をしながら歴史を歩んできました。古代から中世まではもっぱら朝鮮半島や③中国から、近世から近代には④ヨーロッパや⑤アメリカからも文物が伝えられました。その結果、日本では、⑥仏教や儒教、キリスト教、神道や地域の信仰が、混じり合いながら共存し、文字には漢字、カタカナ、ひらがながあり、漢字にも音読みと訓読みがあるなど、「多様性」を持った文化が育まれてきました。⑦北海道に居住していたアイヌ民族や⑧琉球（現在の沖縄）の文化は、明治時代の同化政策で失われかけましたが、いまはその独自の文化が日本文化の「多様性」を形作っています。

多様性という観点では、近年、⑨ジェンダーだけでなく（⑩）といった言葉を耳にすることが多くなりました。ジェンダーとは、「社会的・文化的につくられた性差」という意味で、「私」「僕」といったように性別で使う一人称が決まっていたり、男性用トイレを示す場合にスラックスをはく人を青で、女性用トイレの場合にはスカートをはく人を赤で表示したりすることなどがその例としてあげられます。

（⑩）とは、「性的指向が同性や男女両方に向かう人たち」や「心と体の性が一致しない性自認の人たち」などを表す英語の頭文字を組み合わせたものです。こうした言葉は、誰もが「男らしい、女らしい」ではなく、「自分らしい」生き方ができる社会を実現するために生み出された言葉と言えるでしょう。昨年（2023年）の6月には国会で「（⑩）理解増進法」が制定、施行され、性差や性的指向などの多様性を受容する動きがさらに進んでいくことが期待されます。

また、日本は、（⑪）とよばれる、人種や宗教、政治的意見などを理由に迫害を受ける恐れがあるため国外に逃れた人々を保護する条約に加盟していますが、欧米諸国に比べると（⑪）の受け入れには消極的であると言われています。

日本がこれまで培ってきた文化に見られる「⑫多様性を受容する姿勢」を、社会全体のあり方まで広げることができるのか、いまそのことが私たち日本人に問われています。

問1 文中の下線部①に関連して、日本の領土について述べた文として正しいものを、次のア～エの中から1つ選び、記号で答えなさい。

- ア. 日本はオホーツク海、日本海、南シナ海、太平洋に囲まれている。
- イ. 日本の東側には南西から暖流の日本海流が、北東から寒流の千島海流が流れている。
- ウ. 日本の北端は択捉島、南端は南鳥島、西端は与那国島、東端は沖ノ鳥島である。
- エ. 日本は沿岸から200海里までの水域を領海としている。

問2 文中の下線部②のうち平安時代に交流が薄れた理由を答えなさい。

問3 文中の下線部③と日本との交流の例として、中国から伝えられた世界の品々が宝物として納められている、奈良時代に建てられた東大寺にある建物を何というか答えなさい。

問4 文中の下線部④と日本の交流の例として、1872年、明治政府がフランスから最新の機械を輸入し、群馬県に設けた製糸場があります。この製糸場がある場所を次のア～エの中から1つ選び、記号で答えなさい。

- ア. 蕨山
- イ. 熊野
- ウ. 高崎
- エ. 富岡

問5 文中の下線部⑤と今日の日本との貿易関係について、次の各文の空らん（1）～（3）に入る言葉を、それぞれ各文の下語群ア～エの中から1つずつ選び、記号で答えなさい。なお、貿易関係の数値は2021年の値で示しています。

- ・日本からアメリカへの輸出額では機械類が最も多く、次に多いのは（1）である。
 - ア. 織物類
 - イ. 鉄鋼
 - ウ. 自動車
 - エ. 医薬品
- ・日本のアメリカからの農産物の輸入額における上位3品目は、肉類、（2）、大豆である。
 - ア. 米
 - イ. 小麦
 - ウ. 果実
 - エ. とうもろこし
- ・日本と同じ海洋に面し、そこにある港からコンテナなどが日本に輸出される（3）は、日本の東京とほぼ同じ緯度にある。
 - ア. アンカレジ
 - イ. ロサンゼルス
 - ウ. ニューヨーク
 - エ. ボストン

問6 文中の下線部⑥に関連して、次のA・Bの政策やできごとについて、かかわりが深い人物と内容としてもっとも正しいものを、下の語群ア～クの中からそれぞれ1つずつ選び、記号で答えなさい。

- A. 十七条の憲法の制定
- B. 島原・天草一揆

語群

- 人物：ア. 徳川家光
- イ. 聖徳太子
- ウ. 織田信長
- エ. 徳川吉宗
- 内容：オ. 仏教の尊重
- カ. 仏教の禁止
- キ. キリスト教の奨励
- ク. キリスト教の禁止

2024 年度 昭和女子大学附属昭和中学校 入学考査問題 社会 B 日程

問7 文中の下線部⑦に関連して、次の表は北海道が上位を占める農産物の生産量や家畜の頭数の多い上位5つの都道府県を示したものです。このうち、米と乳用牛を示したものを、表中のア～オの中から1つずつ選び、記号で答えなさい。なお、米、乳用牛ともに2022年の値で示しています。

| | 1位 | 2位 | 3位 | 4位 | 5位 |
|---|-----|-----|----|----|----|
| ア | 新潟 | 北海道 | 秋田 | 山形 | 宮城 |
| イ | 北海道 | 鹿児島 | 宮崎 | 熊本 | 岩手 |
| ウ | 熊本 | 北海道 | 愛知 | 茨城 | 千葉 |
| エ | 北海道 | 栃木 | 熊本 | 岩手 | 群馬 |
| オ | 北海道 | 宮城 | 秋田 | 滋賀 | 青森 |

『日本国勢図会 2023/24』から作成

問8 下線部⑧が1972年にアメリカから日本に返還された後も、その地域に多く残っており、移設をめぐっての議論があるアメリカの施設を答えなさい。

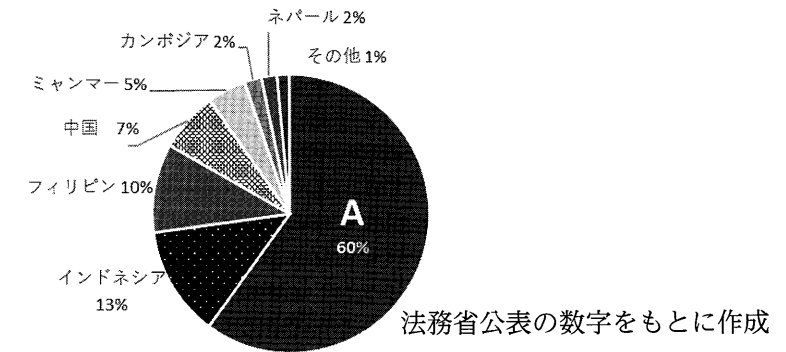
問9 下線部⑨に関連して、次の表は2023年のジェンダーギャップ指数の順位が高いものを中心に、おもな国を示したものです。ジェンダーギャップ指数とは、出生率や健康寿命、政治への参加度、経済活動、教育水準から算出される、男女格差の度合いを示す指標で、順位が高い国ほど男女格差が少ないことを示しています。この表を見て、あとの(1)～(3)に答えなさい。

| 国名 | ジェンダーギャップ指数 | | | | | | SDGs |
|----------|-------------|------|------|------|------|------|------|
| | 総合スコア | 総合順位 | 健康順位 | 政治順位 | 経済順位 | 教育順位 | 順位 |
| アイスランド | 0.912 | 1 | 128 | 1 | 14 | 79 | 29 |
| ノルウェー | 0.879 | 2 | 127 | 2 | 11 | 84 | 7 |
| フィンランド | 0.863 | 3 | 71 | 4 | 20 | 1 | 1 |
| ニュージーランド | 0.856 | 4 | 101 | 3 | 42 | 1 | 27 |
| スウェーデン | 0.815 | 5 | 118 | 11 | 15 | 1 | 2 |
| イギリス | 0.792 | 15 | 105 | 19 | 43 | 34 | 11 |
| スペイン | 0.791 | 18 | 98 | 18 | 48 | 39 | 16 |
| 南アフリカ | 0.787 | 20 | 29 | 13 | 81 | 43 | 110 |
| オランダ | 0.777 | 28 | 124 | 21 | 77 | 1 | 20 |
| カナダ | 0.770 | 30 | 93 | 33 | 36 | 1 | 26 |
| ポルトガル | 0.765 | 32 | 62 | 38 | 34 | 76 | 18 |
| ベトナム | 0.711 | 72 | 144 | 89 | 31 | 89 | 55 |
| 日本 | 0.647 | 125 | 59 | 138 | 123 | 47 | 21 |

「Global Gender Gap Report 2023」, 「Sustainable Development Report 2023」から作成

- (1) ジェンダーギャップ指数の総合順位が上位5位までの国はどの地域に多いですか。
- (2) 次のグラフは外国人技能実習制度で日本にやってきた外国人の出身国の割合を示したものです。グラフ内のAにあたる国名を表の国名から抜き出ささい。

外国人技能実習生の構成比 (2022年12月)



※外国人技能実習制度とは、発展途上国の若い労働者が日本で働きながら技能を学ぶことを目的として、政府が定めた制度です。実態が目的にそぐわないとして、現在では制度の変更が検討されています。

- (3) 表から読み取れることとして正しいものを、次のア～エの中から1つ選び、記号で答えなさい。
 - ア. 総合スコアの数値が低い国は、健康と政治の順位も低い。
 - イ. アメリカ大陸にある国は、表のすべての項目で日本の順位を上回っている。
 - ウ. 日本は、政治分野と経済分野で男女の不平等が目立っている。
 - エ. ジェンダーギャップ指数の順位とSDGsの順位は、ほぼ一致している。

問10 文中の空らん(⑩)に入る言葉をアルファベット4字または5字で答えなさい。

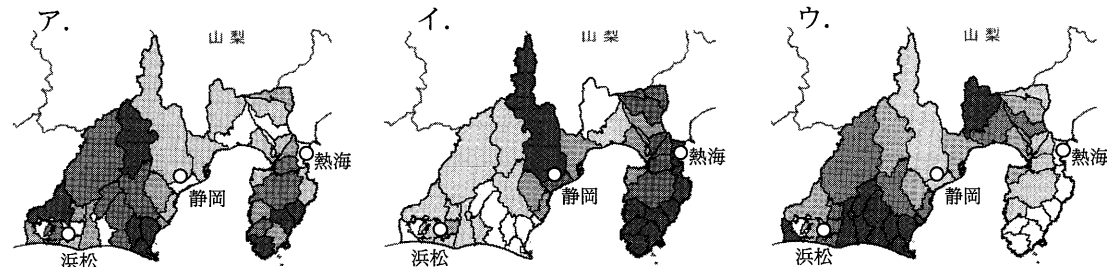
問11 文中の空らん(⑪)にあてはまる人たちを何と呼ぶか答えなさい。

問12 下線部⑫に関連して、本文で述べている「性別」に関することから以外で、「多様性を受容する姿勢」を具体的にどのような場面で行動に移すことができますか。学校や会社を例にして1つ答えなさい。

2 次の各問いに答えなさい。

問1 静岡県を中心とした都道府県の地理に関する次の(1)～(3)に答えなさい。

(1) 次のア～ウの図は静岡県の第一次産業、第二次産業、第三次産業に就く人の割合を市区町村別に示したものです。色が濃いほど割合が高いことを示しています。下の説明を参考にして、第二次産業、第三次産業に就く人の割合を示したものをそれぞれ1つずつ選び、記号で答えなさい。



説明

- ・観光業がさかんな市区町村は、第三次産業の割合が高い。
- ・茶の生産がさかんな地域や山間の地は第一次産業の割合が高い。

(2) 次の表は静岡県、宮城県、大阪府の耕地面積、金属製品の生産額、海面漁業漁獲量について示しています。A～Cにあてはまる都道府県名の組合せとして正しいものを、下のア～カの中から1つ選び、記号で答えなさい。

| | 耕地面積 (ヘクタール) (2022年) | 金属製品の生産額 (億円) (2020年) | 海面漁業漁獲量 (千トン) (2021年) |
|---|-------------------------|--------------------------|--------------------------|
| A | 60,400 | 5,949 | 250 |
| B | 125,300 | 1,887 | 184 |
| C | 12,200 | 14,741 | 18 |

- ア. A－宮城県 B－大阪府 C－静岡県
- イ. A－宮城県 B－静岡県 C－大阪府
- ウ. A－静岡県 B－宮城県 C－大阪府
- エ. A－静岡県 B－大阪府 C－宮城県
- オ. A－大阪府 B－宮城県 C－静岡県
- カ. A－大阪府 B－静岡県 C－宮城県

(3) 次の説明文I・IIは、静岡県よりも面積が大きい2つの都道府県をそれぞれ説明したものです。あてはまる都道府県名を答えなさい。

- I 海に接していない県で、川上村など東部の高地ではレタスの栽培がさかんである。
- II 三方を海に囲まれ、大きな半島が二つある。カルデラ湖が県境になっている。

問2 九州地方の歴史について、次の(1)～(6)に答えなさい。

(1) 九州地方で稲作が開始されたことを示す理由として正しいものを、次のア～エの中から1つ選び、記号で答えなさい。

- ア. 縄文時代の終わりごろに稲作をおこなったことを示す遺跡が、九州地方で発見されているから。
- イ. 中国の皇帝から稲作の技術が九州地方に伝えられたことが、史料に記されているから。
- ウ. 稲作をおこなったことを示す遺跡が九州地方からしか発見されていないから。
- エ. 九州地方の前方後円墳から、たくさんの農具が出土しているから。

(2) 外交や防衛上の重要な場所であった九州におかれ、菅原道真が左遷されたことでも知られる「遠の朝廷」とも呼ばれた政府の機関を、漢字3字で答えなさい。

(3) 鎌倉幕府の滅亡後、後醍醐天皇の政治に不満を持つ武士とともに関東で挙兵し、九州方面で勢力を拡大して京都に入り、室町幕府を開いた人物は誰か答えなさい。

(4) ヨーロッパ人によって鉄砲が伝えられた九州地方の場所を、次のア～エの中から1つ選び、記号で答えなさい。

- ア. 出島 イ. 島原 ウ. 種子島 エ. 屋久島

(5) 江戸時代、朝鮮との関係を築いた九州地方の藩名を、次のア～エの中から1つ選び、記号で答えなさい。

- ア. 薩摩藩 イ. 長州藩 ウ. 水戸藩 エ. 対馬藩

(6) 1882年に立憲改進黨をつくり、明治時代後半と第一次世界大戦が起きたころの2度、総理大臣に就任した人物を、次のア～エの中から1人を選び、記号で答えなさい。

- ア. 伊藤博文 イ. 板垣退助 ウ. 大隈重信 エ. 西郷隆盛

問3 次の文の空らん(①)・(②)にあてはまる語句を答えなさい。

- ・内閣不信任決議案が可決されたとき、内閣は10日以内に衆議院を解散するか、(①)をしなければならないことが日本国憲法で定められています。
- ・2024年から発行される新紙幣では、女性の教育に力をそそいだ(②)の肖像が5000円札に使用されることになっています。

1

| | | | | | | | | | |
|------|-----|----|-----|------|-----|----|----|--|--|
| 問 1 | | | 問 2 | | | | | | |
| 問 3 | | | | 問 4 | | | | | |
| 問 5 | 1 | | | 2 | | | 3 | | |
| 問 6 | A | 人物 | 内容 | | B | 人物 | 内容 | | |
| 問 7 | 米 | | | 乳用牛 | | | | | |
| 問 8 | | | | | | | | | |
| 問 9 | (1) | | | | | | | | |
| | (2) | | | | (3) | | | | |
| 問 10 | | | | 問 11 | | | | | |
| 問 12 | | | | | | | | | |

2

| | | | | | | | | | | |
|-----|-----|-----|--|-----|-----|---|-----|-----|--|--|
| 問 1 | (1) | 第二次 | | | 第三次 | | | (2) | | |
| | (3) | I | | | | | II | | | |
| 問 2 | (1) | | | (2) | | | | | | |
| | (3) | | | | | | (4) | | | |
| | (5) | | | (6) | | | | | | |
| 問 3 | ① | | | | | ② | | | | |

↓ここにシールをはってください↓

| | |
|----|--|
| 氏名 | |
|----|--|




1

| | | | | | | | | | | |
|-----|------------------------------------|------------|-------------|-----|---|---|----|---|----|---|
| 問1 | イ | 問2 | 遣唐使が廃止されたため | | | | | | | |
| 問3 | 正倉院 | | 問4 | エ | | | | | | |
| 問5 | 1 | ウ | 2 | エ | 3 | イ | | | | |
| 問6 | A | 人物 | イ | 内容 | オ | B | 人物 | ア | 内容 | ク |
| 問7 | 米 | ア | 乳用牛 | エ | | | | | | |
| 問8 | 基地 | | | | | | | | | |
| 問9 | (1) | 北ヨーロッパ(北欧) | | | | | | | | |
| | (2) | ベトナム | | (3) | ウ | | | | | |
| 問10 | LGBT(Q) | | 問11 | 難民 | | | | | | |
| 問12 | 人種や民族、国籍、宗教の違いに関係なく入学できたり、入社できたりする | | | | | | | | | |

2

| | | | | | | | |
|----|-----|------|-----|-----|-----|------|---|
| 問1 | (1) | 第二次 | ウ | 第三次 | イ | (2) | ウ |
| | (3) | I | 長野県 | | II | 青森県 | |
| 問2 | (1) | ア | (2) | 大宰府 | | | |
| | (3) | 足利尊氏 | | | (4) | ウ | |
| | (5) | エ | (6) | ウ | | | |
| 問3 | ① | 総辞職 | | | ② | 津田梅子 | |

↓ここにシールをはってください↓



| | |
|----|--|
| 氏名 | |
|----|--|

