

## 2023年度 昭和女子大学附属昭和中学校 入学考査問題 社会 A日程

1 次の文章を読んで、あとの問いに答えなさい。

近年、自助・共助・公助という言葉が耳にすることが多くなってきました。これは災害対策として使われることが多いのですが、共助、すなわち助け合いは、普段から社会の中で見られました。そして、助け合いにはしばしばお金が必要となります。そのようなとき、人々はどのようにしてお金を調達してきたのでしょうか。

日本の農村では、村人が少しずつお金を出し合っておき、必要に応じてお金を受け取れるしくみもありました。江戸時代には①伊勢神宮へのお参りが流行しましたが、費用も日数もかかるので、行きたい人全員が行けるわけではありませんでした。そこで、事前にお金を出し合っておき、貯まったら村の代表者にお金を渡し、自分たちを代表して行ってもらうようにしていました。

これは顔見知りの人々の間でのことでしたが、もっと多くの人々がかかわるものとして、寺院などの改修工事があります。奈良時代に②東大寺が建立される時、僧の行基は全国を旅し、建立への協力を説いて回りました。また、③平安時代末期に、僧の重源は源平の争乱で焼失した東大寺と大仏の修復・再建の費用を集めるため、全国各地を周って人々から寄付を募りました。こうして、鎌倉時代の初めには大仏殿の再建を実現させたと言われています。

世界に目を向ければ、「自由の女神」像もその例としてあげられます。この像は、アメリカ合衆国の建国100周年を記念して④フランスから贈られたものですが、これをつくるときに、両国の市民がお金を出し合いました。アメリカ合衆国では、この像を載せる台座のお金を得るため、新聞広告も活用されました。

最近では、インターネットが新聞の代わりを果たしています。日本でインターネットを利用した資金集めが広まったのは、2011年におきた(⑤)の復興支援を目的とした寄付が始まりと言われています。2022年には、⑥奈良県の法隆寺で、(⑦)の影響により参拝者が減少したことから、維持管理が十分にできないとして、インターネットを利用し、募金を呼びかけました。すると、たった1日で目標金額の2000万円以上が集まったそうです。


このように、(⑧)の人が、一人ひとり(⑨)のお金を、他の人々や組織のために提供・協力することを、現在ではクラウドファンディングと言います。これは、英語のクラウド(群衆)とファンディング(資金集め)を組み合わせた造語です。

皆さんと同じ小学生がクラウドファンディングを利用した例もあります。⑩山梨県甲府市の動物園では、限られた予算で運営しているため、動物の健康管理に必要なレントゲンなどの医療機器を購入できませんでした。それを知った地元の小学生たちが、レントゲンを動物園に届けようと、クラウドファンディングを始め、寄付してくれた人には動物の写真や園内の無料ガイドツアーなどの特典をつけることで、目標金額を達成したそうです。近年話題となっている、支援したい地方自治体に納税する「ふるさと⑪納税」も、広く取ればクラウドファンディングの例と言えるでしょう。

このようなクラウドファンディングが私たちに教えてくれるのは、「小さな力でも、熱意と思いが集まれば大きなことができる」ということではないでしょうか。さらにこれが、自分だけではなく

多くの人々の幸せにつながっていくのです。⑫世界の誰かのために、あなたにもできることを探してみてください。

問1 文中の下線部①について、江戸時代には、江戸から伊勢神宮に行くときに、江戸の防衛と通行人・商品の管理をする大きな関所が2カ所ありました。それは箱根の関と新居の関ですが、そこに設けられた地形的な理由を、次の地図を参考に説明しなさい。



(地理院地図から加工)

問2 文中の下線部②について、次の(1)・(2)に答えなさい。

- (1) この寺は、誰の指示で建立されましたか。  
 (2) この寺は、どのような思いをもとに建立されましたか。次のア～エの中から1つ選び、記号で答えなさい。

- ア. 仏教によって、国全体が平和になるようにという思い。  
 イ. 中国が攻めてこないようにという思い。  
 ウ. 大化の改新で亡くなった人々の霊をなぐさめるという思い。  
 エ. 天皇に跡継ぎが産まれたのを祝いするという思い。

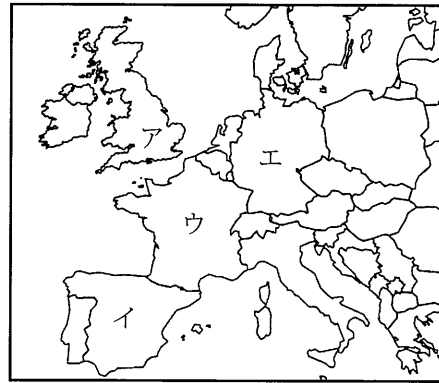
問3 文中の下線部③について、次の文の空らん(A)・(B)にあてはまる言葉を答えなさい。

- ・この時代半ばの文化の形成には、894年の(A)の廃止が影響している。
- ・この時代に、(B)が『源氏物語』を書いた。

2023 年度 昭和女子大学附属昭和中学校 入学考査問題 社会 A 日程

問4 文中の下線部④について、次の(1)～(3)に答えなさい。

(1) フランスの位置を、次の地図中のア～エの中から1つ選び、記号で答えなさい。



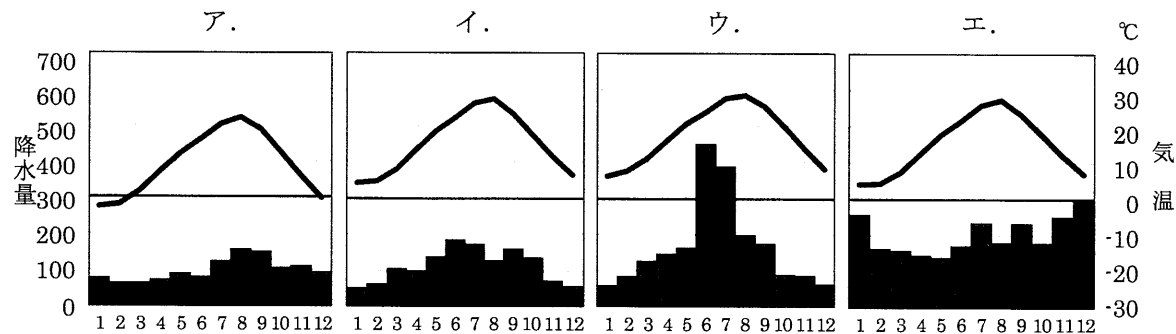
(2) フランスからアメリカに品物を輸送するときに通る、ヨーロッパ大陸とアメリカ大陸の間に広がる海の名前を答えなさい。

(3) フランスとアメリカ合衆国には共通点が少なくありませんが、両国の共通点とは言えないものを、次のア～エの中から1つ選び、記号で答えなさい。

- ア. 民主主義の国である。
- イ. 江戸時代に、日本と修好通商条約を結んだ。
- ウ. 国旗に星が描かれている。
- エ. 国民が大統領を選ぶ。

問5 文中の空らん(⑤)にあてはまる言葉を、漢字6字で答えなさい。

問6 次のグラフには、金沢・熊本・奈良・函館の雨温図が示されています。下線部⑥のものを次のア～エの中から1つ選び、記号で答えなさい。



(気象庁 HP から作成)


問7 文中の空らん(⑦)にあてはまる言葉を答えなさい。

問8 文中の空らん(⑧)・(⑨)にあてはまる言葉の組み合わせとして正しいものを、次のア～エの中から1つ選び、記号で答えなさい。

- ア. ⑧わずか ⑨少額
- イ. ⑧わずか ⑨多額
- ウ. ⑧多く ⑨少額
- エ. ⑧多く ⑨多額

問9 文中の下線部⑩に見られる、右の写真の点線内の地形について、次の(1)・(2)に答えなさい。

- (1) この地形の名前を答えなさい。
- (2) この地形では、果樹栽培が広く行われていますが、その理由を答えなさい。



問10 文中の下線部⑪は、日本国憲法が定めた国民の義務のひとつです。これ以外の国民の義務を1つ答えなさい。

問11 文中の下線部⑫について、1945年に設立された国際的な平和機関を漢字4字で答えなさい。

問12 本文の内容と合わない文を、次のア～エの中から1つ選び、記号で答えなさい。

- ア. 平安時代から鎌倉時代にかけて、寄付を募って東大寺の大仏殿を再建した。
- イ. 江戸時代には、村でお金を出し合って代表者が伊勢神宮にお参りをする事もあった。
- ウ. クラウドファンディングは年齢に関係なく行うことができる。
- エ. ふるさと納税は自分の住む地方自治体以外に納めることはできない。

問13 あなたに、次のような依頼があったとします。本文の内容を参考にして、あとの(1)・(2)に答えなさい。

私たちS鉄道会社は、都市近郊で列車を走らせています。しかし、赤字経営で困っているので、解決策として、蒸気機関車(SL)を走らせることを考えました。そこで、その資金を集めるためのクラウドファンディングの案を考えてください。

- (1) クラウドファンディングで、多くの資金を集めるために、どのような特典を設けると良いですか。本文にある特典を除いた具体例を1つあげなさい。
- (2) 資金が集まったとして、この計画を実現するうえで考えられる問題点を具体的に1つあげなさい。

## 2023 年度 昭和女子大学附属昭和中学校 入学考査問題 社会 A 日程

2 次の各問いに答えなさい。

問1 次の表の A～I は、日本の工業地帯・工業地域の製造品出荷額等の構成です。この表と説明を見て、あとの(1)・(2)に答えなさい。

(単位は%)

	金属	機械	化学	食料品	繊維	その他
A	9.4	47.0	18.7	11.6	0.4	12.9
B	9.5	68.6	6.6	4.7	0.7	9.9
C	20.9	37.9	15.9	11.1	1.3	12.9
D	17.0	45.6	6.0	16.6	0.6	14.2
E	11.9	44.4	10.3	15.8	0.6	17.0
F	18.1	35.1	22.3	7.8	2.1	14.6
G	7.7	51.3	11.2	13.7	0.7	15.4
H	16.9	39.7	13.1	9.7	4.0	16.6
I	21.3	12.7	40.1	16.1	0.2	9.6

『日本国勢図会 2022/23』から作成

## 【説明】

- ・金属工業の生産割合が高い上位2か所は阪神工業地帯と京葉工業地域で、一番低いのは東海工業地域である。
- ・機械工業の生産割合が高い上位2か所は中京工業地帯と東海工業地域で、一番低いのは京葉工業地域である。
- ・食料品工業の生産割合が高い上位2か所は北九州工業地域と京葉工業地域で、一番低いのは中京工業地帯である。
- ・繊維工業の生産割合が高いのは北陸工業地域で、他の地域は低い。
- ・表には、これまでの説明に挙げたもの以外に、関東内陸工業地域、瀬戸内工業地域、京浜工業地帯が載っている。

(1) 次の文の空らんにあてはまる工業地域を、あとのア～オの中から1つずつ選び、それぞれ記号で答えなさい。

「化学工業の生産割合が一番高いのは( ① )工業地域、二番目に高いのは( ② )工業地域で、一番低いのは( ③ )工業地域である。

ア. 北陸 イ. 北九州 ウ. 京葉 エ. 瀬戸内 オ. 東海

(2) 京浜工業地帯はどれですか。表のA～Iの中から1つ選び、記号で答えなさい。

問2 日本の歴史に登場する大きな争いについて、次の(1)～(4)に答えなさい。

(1) 平清盛が源頼朝の父を破り、貴族にかわって政治を行うきっかけとなった争いを、次のア～エの中から1つ選び、記号で答えなさい。

ア. 壬申の乱 イ. 応仁の乱 ウ. 平治の乱 エ. 壇ノ浦の戦い

(2) 桶狭間で今川軍を破り、長篠で武田軍を破って天下統一をめざした人物を答えなさい。

(3) 江戸時代の終わりに、薩摩藩と同盟を結んで幕府を破り、天皇中心の政府をつくった藩を答えなさい。

(4) 日本が韓国を植民地とした時期を、次のア～エの中から1つ選び、記号で答えなさい。

ア. 日清戦争～日露戦争 イ. 日露戦争～第一次世界大戦  
ウ. 第一次世界大戦～第二次世界大戦 エ. 第二次世界大戦～朝鮮戦争

問3 次の文の空らんに通してあてはまる言葉を答えなさい。

2022年8月1日～26日にかけて、( )軍縮、( )不拡散、原子力の平和利用について話し合う「( )不拡散条約」(NPT)の再検討会議が開かれたが、ロシアの反対で合意には至りませんでした。

1

問 1				
問 2	(1)		(2)	
問 3	A		B	
問 4	(1)		(2)	
	(3)			
問 5			問 6	
問 7			問 8	
問 9	(1)			
	(2)			
問 10			問 11	
問 12				

問 13	(1)			
	(2)			

2

問 1	(1)	①		②		③	
	(2)						
問 2	(1)		(2)				
	(3)				(4)		
問 3							

↓ここにシールをはってください↓

--

氏名	
----	--



23AA511

1	
問1	山道や湖によって通行を妨げられる交通の難所であり、他の経路をたどろうとしても近くに適当な道がなく、その場所を通らざるを得ないようなところ。②
問2	(1) 聖武天皇 ② (2) ア ②
問3	A 遣唐使 ② B 紫式部 ②
問4	(1) ウ ① (2) 大西洋 ②
	(3) ウ ①
問5	東日本大震災 ②
問6	イ ②
問7	新型コロナウイルス ②
問8	ウ ①
問9	(1) 扇状地 ②
	(2) 水はけがよいので水田に向かず、雨が少なく日当たりが良いので果樹栽培を行っている。②
問10	勤労の義務／普通教育を受けさせる義務 ②
問11	国際連合 ②
問12	工 ②

問13	(1)	・無料乗車券を配る。／・SLの一部に資金を出した人の名前を載せる。／・乗車時にお土産を配る。など ②
	(2)	・煙で洗濯物が外に干せない。 ・騒音で沿線住民が悩まされる。 ・二酸化炭素の排出が増える。など ③

2		
問1	(1)	① ウ ② ① ③ ① ①
	(2)	A ②
問2	(1)	ウ ① (2) 織田信長 ②
	(3)	長州藩 ② (4) イ ②
問3	核 ②	