

2023 年度 昭和女子大学附属昭和中学校 入学考査問題 社会 B 日程

1 次の文章を読んで、あとの問いに答えなさい。

2022 年はさまざまな商品の価格（物価）が上昇した一年でした。①原油や天然ガスなどのエネルギー資源、②小麦やとうもろこしなどの食料・飼料、電気やガスなどの公共料金、様々な加工品の価格が上昇しました。このような物価上昇の背景には、【A】による【B】への侵攻で、欧米各国や日本が【A】産原油や天然ガスの輸入を手控えたこと、【B】の穀倉地帯の生産が減少し、③輸出も滞ったこと、④日本のお金である円の価値がドルなど外国のお金の価値に比べて低くなったことなどがあげられます。

物価の上昇は過去にも何度も起きています。江戸時代、「生類憐みの令」を出したことで有名な 5 代将軍 【C】 のときには、幕府のお金不足をおぎなうため、質の悪いお金を発行したことで、物価が上昇しました。米将軍とよばれた 8 代将軍 【D】 のときにも、ききんなどにより米価が上昇しました。さらに幕末の開国後には、多くの 【E】 や茶が輸出され、それらが国内で不足したため価格が上昇しました。

【F】 時代には第一次世界大戦への参加と輸出の増加で、国内の物資が不足し、物価が大きく上昇しました。とくに 1918 年にシベリアへの出兵が始まると、⑤米の買い占めや売りおしみが起こり、米価が急激に上昇しました。

その後も日本では、太平洋戦争終了後の物資不足による物価の上昇、⑥ 1973 年の西アジアでの戦争などを背景とした石油価格や物価の急激な上昇、1980 年代半ばから 1990 年代初めにかけての⑦土地などの急激な価格上昇などが見られました。

このように物価は一般的に、商品量が【 a 】ことなどで、買いたい人の数に比べて世の中に出回る商品量が少ない場合や、商品の価値に比べてお金の価値が【 b 】なる場合などに上昇します。物価の上昇は、私たちがお金の使い方を変えないとすれば、その分、生活費が【 c 】ことになるので、収入が増えなければ生活が苦しくなります。お金の使い方を見直して支出を少なくすることも考えられますが、そうすると商品を販売している会社の売上げが【 a 】ことになり、経済全体にとってはマイナスとなります。そこで日本では、働いている人の給料や賃金を【 d 】することや政府が人々の生活を支えることが求められています。昨年の⑧参議院議員選挙でもそのようなことが選挙の争点の一つとされていました。

問1 文中の空らん 【A】・【B】 について、次の(1)・(2)に答えなさい。

(1) 空らん 【A】・【B】 にあてはまる国をそれぞれ答えなさい。

(2) 空らん 【A】 と 【B】 との戦いにおいて、核兵器使用の可能性が報道されました。核兵器使用に関しては、2017 年に国連総会で採択され、昨年 1 月に発効した条約があります。6 月に第 1 回目の締約国会議が開かれましたが、日本はまだ調印していません。この条約の名前を答えなさい。

問2 文中の空らん 【C】・【D】 に入る将軍の名前を、次のア～オの中から 1 人ずつ選び、それぞれ記号で答えなさい。

ア. 徳川家康 イ. 徳川慶喜 ウ. 徳川吉宗 エ. 徳川家光 オ. 徳川綱吉

問3 文中の空らん 【E】 には、当時の輸出品の中で輸出額が最も多い商品の名前が入ります。この商品の名前を次のア～エの中から 1 つ選び、記号で答えなさい。

ア. 生糸 イ. 刀剣 ウ. 銅銭 エ. 和紙

問4 文中の空らん 【F】 に入る時代を答えなさい。

問5 文中の下線部①について、次の表は、原油と天然ガスの産出量または生産量と、輸入量の上位 5 カ国を示したものです。これを見て、あとの(1)・(2)に答えなさい。

	原油		天然ガス	
	産出量 2021 年	輸入量 2019 年	生産量 2020 年	輸入量 2020 年
第 1 位	アメリカ合衆国	中国	アメリカ合衆国	中国
第 2 位	サウジアラビア	アメリカ合衆国	<u>【A】</u>	<u>【 】</u>
第 3 位	<u>【A】</u>	インド	イラン	ドイツ
第 4 位	カナダ	<u>【 】</u>	中国	アメリカ合衆国
第 5 位	イラク	韓国	カナダ	イタリア

『世界国勢図会 2022/23』から作成

(1) 表の中に西アジアの国は何カ国ありますか。空らんの国を除いて答えなさい。

(2) 空らん 【 】 に入るアジアの国を答えなさい。

2023年度 昭和女子大学附属昭和中学校 入学考査問題 社会 B日程

問6 文中の下線部②について、次の表は、2020年の小麦・とうもろこし・米の全世界の生産量と輸出量を示しています（単位は万トン）。米の輸出の割合が小麦やとうもろこしに比べて少ない理由としてもっとも適切なものを、あとのア～エの中から1つ選び、記号で答えなさい。

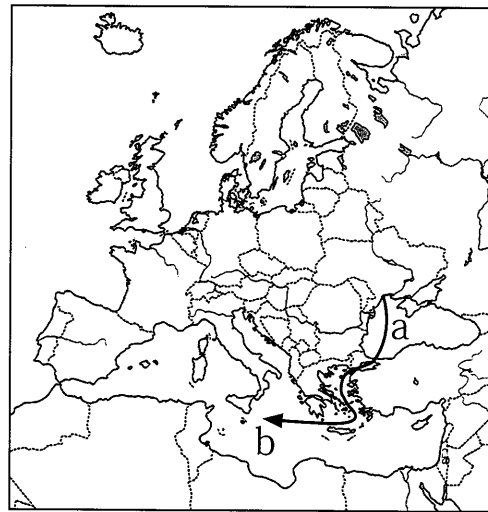
	生産量	輸出量	輸出の割合
小麦	7億6093	1億9853	26.1%
とうもろこし	11億6235	1億9289	16.6%
米	7億5674	4560	6.0%

『日本国勢図会 2022/23』から作成

- ア. 米は、一般的に小麦やとうもろこしよりも価格が高めだから。
 イ. 小麦やとうもろこしに比べて、米は加工がしやすいから。
 ウ. 世界全体では小麦やとうもろこしに比べて、米を食べている人は非常に少ないから。
 エ. 米を生産している国の多くでは、自分たちが消費するために生産しているから。

問7 文中の下線部③は、貨物船を利用した輸出が戦争により思うようにいなくなったことが背景にあります。右の地図を見て、船の航路にあたるa・bの海の名前を、下のア～カの中から1つずつ選び、記号で答えなさい。

- ア. 黄海 イ. 紅海
 ウ. 黒海 エ. 地中海
 オ. カスピ海 カ. 大西洋



問8 文中の下線部④のようなことを何とよびますか。漢字2字で答えなさい。

問9 文中の下線部⑤の出来事に対して、当時の多くの人々が起こした行動によって社会に大きな影響が及びました。それはどのような行動でしたか。

問10 文中の下線部⑥よりも前の出来事を、次のア～エの中から1つ選び、記号で答えなさい。

- ア. 日中平和友好条約が結ばれた。 イ. 朝鮮戦争が起こった。
 ウ. 日本で消費税が導入された。 エ. 阪神・淡路大震災が発生した。

問11 文中の下線部⑦について、鎌倉時代に「一所懸命（現在は一生懸命）」という言葉が生まれました。この言葉には当時の武士たちの土地に対する思いがこめられています。その思いを、当時の武士とその主君の関係にふれながら説明しなさい。

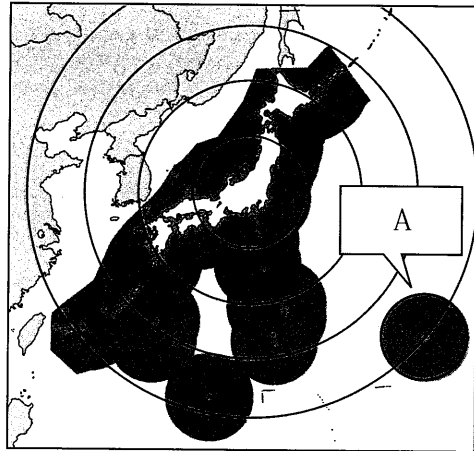
問12 文中の空らん【 ㉑ 】～【 ㉔ 】にあてはまる言葉の組み合わせとして正しいものを、次のア～エの中から1つ選び、記号で答えなさい。

- ア. ㉑増える ㉒高く ㉓減る ㉔低く
 イ. ㉑減る ㉒高く ㉓増える ㉔低く
 ウ. ㉑増える ㉒低く ㉓減る ㉔高く
 エ. ㉑減る ㉒低く ㉓増える ㉔高く

問13 文中の下線部⑧について、次回の参議院議員選挙は西暦何年に行われますか。

2 次の各問いに答えなさい。

問1 日本の排他的経済水域を示した次の地図を見て、あとの(1)～(5)に答えなさい。



(1) 日本の排他的経済水域は、沿岸から何カイリのところまでに設定されていますか。次のア～エの中から1つ選び、記号で答えなさい。

- ア. 100カイリ イ. 150カイリ
ウ. 200カイリ エ. 250カイリ

(2) Aの範囲は、日本の最東端の島があるために、排他的経済水域になっています。この島の名前を、次のア～エの中から1つ選び、記号で答えなさい。

- ア. 南鳥島 イ. 沖ノ鳥島
ウ. 大東島 エ. 東鳥島

(3) 日本海や東シナ海などでは、日本の排他的経済水域を本来の範囲まで設定することができず、円形になっていません。それはなぜか、説明しなさい。

(4) 排他的経済水域で日本が優先的に使用できるものは、漁業資源とそれ以外に何資源がありますか。

(5) 地図中には、東京を中心に4つの円が描かれています。これを参考に、東京・鹿児島間とほぼ同じ距離にはないところを、次のア～エの中から1つ選び、記号で答えなさい。

- ア. 稚内 イ. プサン(釜山) ウ. 秋田 エ. 長崎

問2 日本の世界遺産について、次の(1)～(4)に答えなさい。

(1) 百舌鳥古墳群の1つである大仙(大山)古墳に代表される前方後円墳を、上から見た形で描きなさい。

(2) 古都奈良の文化財の1つである、1300年以上前につくられた世界最古の木造建築物がある寺院を次のア～エの中から1つ選び、記号で答えなさい。

- ア. 東大寺 イ. 平等院 ウ. 金閣寺 エ. 法隆寺

(3) 広島県の宮島にある厳島神社を大改修して、あつく信仰した人物を、次のア～エの中から1人を選び、記号で答えなさい。

- ア. 平清盛 イ. 武田信玄 ウ. 織田信長 エ. 源頼朝

(4) 2018年、長崎と天草地方の潜伏キリシタン関連遺産が世界遺産に登録されました。キリシタンが弾圧されていた時代に、長崎の出島で唯一交易していたヨーロッパの国を答えなさい。

問3 次の(1)～(3)に答えなさい。

(1) 次の①・②は、日本国憲法の三大原則のうち、2つの具体例を示したものです。それぞれに対応する原則を答えなさい。

①外国ともめごとが起きたときは、国どうしの話し合いで解決する。

②憲法を改正するかどうかを最終的に決めるのは国民である。

(2) 障がいのある人や高齢者などが、社会の中で安全・快適に暮らせるよう、段差をなくしたり、多目的トイレをつくったりすることを何と呼びますか。カタカナ6字で答えなさい。

(3) 2022年5月15日、日本への復帰50周年を記念する式典が東京とともに開かれた県を答えなさい。

1

問1	(1)	A			B			
	(2)							
問2	C			D				
問3				問4				
問5	(1)				(2)			
問6			問7	a			b	
問8								
問9							問10	
問11								
問12				問13				

2

問1	(1)			(2)					
	(3)								
	(4)					(5)			
問2	(1)						(2)		
							(3)		
							(4)		
問3	(1)	①				②			
	(2)					(3)			

↓ここにシールをはってください↓

--

氏名	
----	--




23BA511

1

問1	(1)	A	ロシア		B	ウクライナ	
	(2)	核兵器禁止条約					
問2	C	オ	D	ウ			
問3	ア		問4	大正			
問5	(1)	3か国			(2)	日本	
問6	エ	問7	a	ウ	b	エ	
問8	円安						
問9	米を買い占める商店を襲った (米騒動)					問10	イ
問11	武士が主君のために戦で活躍することによって、 主君から御恩としていただいた土地を命がけで守り抜くという思い。						
問12	エ	問13	2025年				

2

問1	(1)	ウ	(2)	ア	
	(3)	中国・韓国・ロシアなど外国があるので双方の排他的経済水域が重なり、中間地点を日本の水域としているため。			
問2	(4)	地下資源 (鉱産資源)		(5)	ウ
	(1)				(2)
(3)	ア				
(4)	オランダ				
問3	(1)				①
	(2)	バリアフリー		(3)	沖縄県