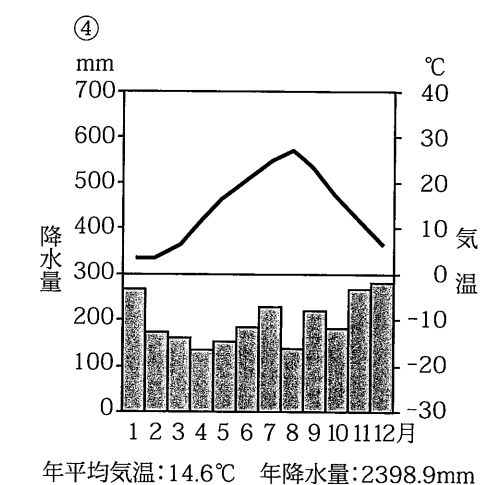
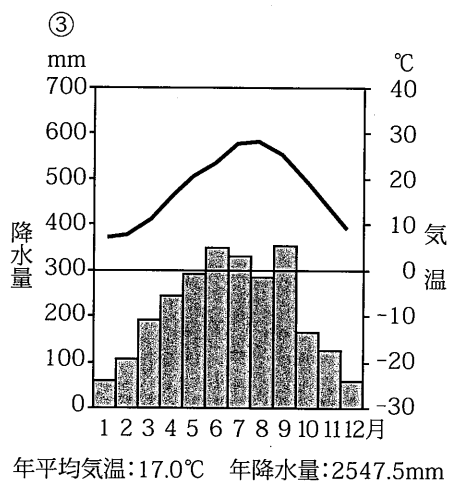
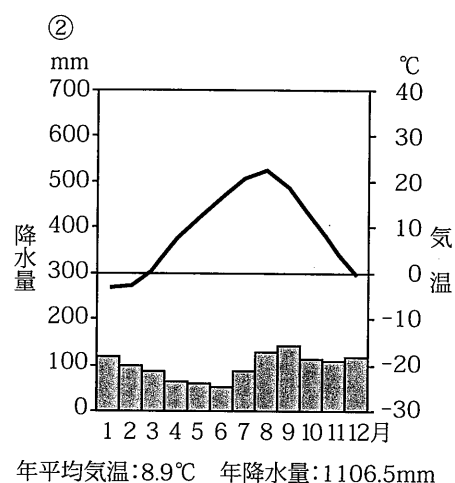
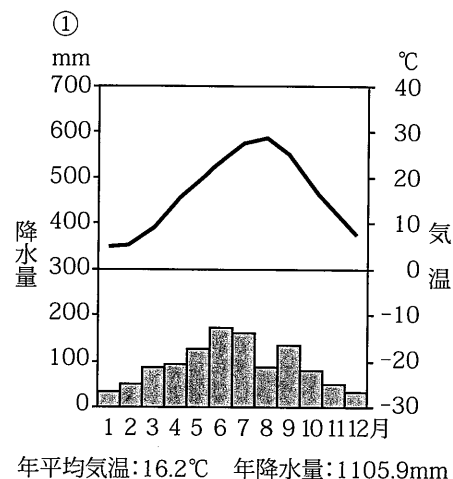


1 次のそれぞれの問いに答えなさい。

問1 次の①～④は、札幌、金沢、岡山、高知のいずれかの気候を示した雨温図（折れ線グラフは気温、棒グラフは降水量）です。①～④に対応する場所の特色を、あとのア～オの中から1つずつ選び、記号で答えなさい。また、このような「地域による気候のちがいを」つくる、日本の地理的特色を2つあげなさい。



『日本国勢図会 2020/21年版』から作成

- ア. かつて加賀百万石の城下町として栄え、現在でも焼き物や染め物などの伝統産業がさかん。
- イ. 碁盤の目のように区画された市街地があり、冬の雪まつりが有名。
- ウ. 太平洋側に面し、カツオの水揚げが多いことで有名。
- エ. 山陽新幹線が通り、日本三名園のひとつがあることで有名。
- オ. 盆地の中にあり、りんごや野菜の生産がさかん。

問2 次の表は、都道府県の人口の特色を示したものです。(①)～(④)に入る都道府県を、あとのア～カの中から1つずつ選び、記号で答えなさい。(人口と人口密度は2019年10月1日現在、人口増減率は2018年10月～19年9月のもの)

| 都道府県 | 人口(万人) | 人口密度(人/km ²) | 人口増減率(%) |
|------|--------|--------------------------|----------|
| 東京 | 1392.1 | 6344.7 | 0.71 |
| (①) | 145.3 | 637.1 | 0.39 |
| 埼玉 | 735.0 | 1935.3 | 0.27 |
| (②) | 919.8 | 3806.8 | 0.24 |
| (③) | 755.2 | 1459.9 | 0.21 |
| 岩手 | 122.7 | 80.3 | -1.12 |
| 高知 | 69.8 | 98.3 | -1.15 |
| 山形 | 107.8 | 115.6 | -1.15 |
| (④) | 124.6 | 129.2 | -1.31 |
| 秋田 | 96.6 | 83.0 | -1.48 |

『日本国勢図会 2020/21年版』

- ア. 北海道
- イ. 青森
- ウ. 神奈川
- エ. 愛知
- オ. 広島
- カ. 沖縄

問3 日本の特色について、次の(1)～(3)に答えなさい。

- (1) 本州・北海道・九州・四国の次に大きな島を、次のア～オの中から1つ選び、記号で答えなさい。
ア. 淡路島 イ. 択捉島 ウ. 沖縄島 エ. 国後島 オ. 佐渡島
- (2) 農業産出額がもっとも多い都道府県を、次のア～オの中から1つ選び、記号で答えなさい。
ア. 鹿児島県 イ. 宮崎県 ウ. 千葉県 エ. 茨城県 オ. 北海道
- (3) 発電電力量のもっとも多い地方を、次のア～オの中から1つ選び、記号で答えなさい。
ア. 九州地方 イ. 近畿地方 ウ. 中部地方 エ. 関東地方 オ. 東北地方

2021年度 昭和女子大学附属昭和中学校入学考査問題 社会 A日程

2 次の会話文を読んで、あとの問いに答えなさい。

昭子さん：コンビニなどで働く外国人の姿を、よく目にするわね。

お姉さん：国連の事務総長が言っていたのだけれど、1年以上自分の国を離れて外国に住んでいる人は、世界では2018年の時点で約2億5800万人いるそうよ。また、経済協力開発機構というところが発表した資料によると、日本の外国人受け入れ数は、先進国では(①)・アメリカ・イギリスに次いで第4位だそうよ。このように長期間外国に滞在する移住者のことを(☆)という人もいるわ。

昭子さん：あら。意外と多いのね。②初めて日本列島にやって来た人たちも(☆)なのかしら。

お姉さん：どうかしら。それを(☆)というかは分からないけれど、③弥生時代に新しい文化を持ちこんだ人たちは、間違いなく(☆)だと言えるでしょうね。

昭子さん：古墳時代に、(④)日本にやって来た渡来人も、(☆)よね。

お姉さん：そうね。仏教や儒教のほか、はたおりや漢字など⑤外国から伝わった文化に多くの渡来人が関わっていたのよ。⑥他の時代の(☆)も、同じように日本の歴史をきざんできたのよ。

昭子さん：そのとおりよね。逆に日本から外国に移り住んだ人たちもいたのでしょ。

お姉さん：ええ。例えば奈良時代に(⑦)として海を渡った阿倍仲麻呂は中国で亡くなっているし、江戸時代に、マニラへ追放された⑧高山右近や現在のタイに移り住んだ山田長政も、外国へ渡った(☆)と言えるわね。1930年代に開拓などのために中国東北部の(⑨)へ渡った約27万人も(☆)に含まれているわ。

昭子さん：明治時代にハワイやブラジルに渡った人たちも(☆)よね。

お姉さん：そうよ。苦勞を重ねた歴史にも目を向けることが大切ね。

問1 文中の空らん(①)に入る、第二次世界大戦で日本と同じ側に立って戦い、戦後は東西に分裂していた国を、次のア～エの中から1つ選び、記号で答えなさい。

ア. イタリア イ. オランダ ウ. ドイツ エ. ソ連

問2 文中の下線部②について間違っている文を、次のア～エの中から1つ選び、記号で答えなさい。

- ア. 日本列島にやって来たのは、紀元前のことである。
 イ. 陸続きだった大陸から、日本列島にやって来たと思われる。
 ウ. 大型動物を追いかけて、日本列島にやって来たと思われる。
 エ. アフリカで人類が誕生したのとほぼ同時期に日本列島にやって来たと思われる。

問3 文中の下線部③に、中国に使いを送った女王の名前を答えなさい。

問4 文中の空らん(④)に入る文として、もっともふさわしいものを、次のア～エの中から1つ選び、記号で答えなさい。

- ア. 争いを避けるために朝鮮半島から
 イ. 金銀を採るために東南アジアから
 ウ. 金印をもらうために中国から
 エ. 騎馬技術を学ぶためにモンゴルから

問5 文中の下線部⑤の1つである水墨画を日本で完成させた人物を、次のア～エの中から1人選び、記号で答えなさい。

- ア. 千利休 イ. 雪舟 ウ. 空海 エ. 世阿弥

問6 文中の下線部⑥に関する次のア～エの人物を、古いものから順番に並べかえ、記号で答えなさい。

- ア. 織田信長に仕えた黒人の弥助
 イ. 聖徳太子の師となった恵慈
 ウ. 北条時宗の招きによって来日し、円覚寺を開いた無学祖元
 エ. 何度も渡航を試みて、仏教の戒律を日本に伝えた鑑真

問7 文中の空らん(⑦)に入る中国への使いの名前を答えなさい。

問8 文中の下線部⑧はなぜ追放されたのですか。当時の宗教に関する事情をふまえて答えなさい。

問9 文中の空らん(⑨)に入る地名を、次のア～エの中から1つ選び、記号で答えなさい。

- ア. 台湾 イ. 満州 ウ. 樺太 エ. 朝鮮

問10 文中の空らん(☆)に共通して入る語句を、漢字2字で答えなさい。

3 次の文中の空らん(①)・(②)に入る語句を、それぞれ答えなさい。

(1) 新型コロナウイルスの集団感染防止のために総理大臣官邸・厚生労働省が掲げた「3つの密」とは、(①)・密集・密接を指します。

(2) 1年間に国全体で消費される食料が、国内でどのくらい生産されているかを示す割合を食料(②)といい、日本はその低さが問題となっています。

2021 年度 昭和女子大学附属昭和中学校入学考査問題 社会 A 日程

4 次の文章を読んで、あとの問いに答えなさい。

①新型コロナウイルスの感染拡大防止にともなって、外出をせずにインターネットを通じたオンラインによる会議や授業、ショッピングなどが広く普及しました。②2020年7月の東京都知事選挙では、外出が控えられるなかで選挙戦が行われ、オンラインでの情報配信が今までよりも進みました。日本の③国会にあたるイギリスの議会では、テレビ会議システムを使ってオンラインでの審議が行われました。日本でも、全国の④知事がオンラインでの会合を行っている様子がメディアで何度も報道されました。

問1 文中の下線部①に取り組んでいる世界保健機関の略称として正しいものを、次のア～エの中から1つ選び、記号で答えなさい。

ア. FAO イ. ILO ウ. IMF エ. WHO

問2 文中の下線部②で東京都知事に選出された人物を答えなさい。

問3 文中の下線部③を構成する2つの議院のうち、内閣総理大臣の指名が優先される議院を答えなさい。

問4 文中の下線部④や地方議員をやめさせることを何といいますか。次のア～エの中から1つ選び、記号で答えなさい。

ア. リコール イ. イニシアティブ ウ. クレーム エ. リストラ

問5 2019年から第5世代(5G)の通信システムが始まりました。次のア～エの文は、第2世代から第5世代までの各世代の通信システムでできるようになったことです。これらを世代順に並べかえ、記号で答えなさい。

- ア. インターネットにつながることができ、動画や写真を撮って送れるようになる。
- イ. 動画のライブ配信ができ、端末を読み取り機にかざすだけで支払いができる。
- ウ. スタジアムの中に実際にいるかのような臨場感でスポーツを観戦できる。
- エ. 小型の携帯電話が登場し、どこでも気軽に電話ができるようになる。

5 次の文章を読んで、あとの問いに答えなさい。

昭和高校が研修旅行で訪問する場所の1つである①マレーシアのボルネオ島は、飛行機から見ると一面に緑の木々が広がっています。一見すると自然が豊かですが、緑に見える部分の一部は人が植えた油やしの林です。この果実から取れるパーム油は②日本にも輸出されており、インスタント麺やお菓子、洗剤など身近なものにも使われています。

このような油やしの栽培によって③熱帯雨林が無秩序に伐採されることを防ぐために、④持続可能な開発であることを示すRSPO認証ができました。これと同じような認証制度には、森林が法律に違反して伐採されることなく、管理された森林からつくられた商品であることを示すFSC認証もあります。認証マークにはさまざまな種類がありますので、みなさんも探してみてください。

問1 下線部①の大部分と同じ気候帯に属する国を、次のア～エの中から1つ選び、記号で答えなさい。

ア. エジプト イ. ブラジル ウ. カナダ エ. スペイン

問2 下線部①の国をはじめ東南アジアの多くの地域では、戦争中に現地で使用できる日本の紙幣が使われていました。その理由を説明しなさい。

問3 下線部②に関して、マレーシアと日本の貿易品の中で、貿易金額の上位3位までが次に示されています。空らん(Ⅰ)・(Ⅱ)にあてはまる製品名を、あとのア～オの中から1つずつ選び、記号で答えなさい。

日本からマレーシアへ輸出：機械類 — (Ⅰ) — 鉄鋼

マレーシアから日本へ輸出：機械類 — (Ⅱ) — プラスチック

ア. 自動車 イ. 液化天然ガス ウ. 金属製品 エ. パーム油 オ. 米

問4 下線部③に関して、熱帯林が減少することによってどのような問題が起きるでしょうか。考えられることを1つ答えなさい。

問5 下線部④に関連して、持続可能な開発目標達成のために身近でできることとして、もっともふさわしくないものを、次のア～エの中から1つ選び、記号で答えなさい。

ア. 地震の被害にあった人たちのために募金をする。

イ. 不要になった洋服を人にゆずる。

ウ. 家族みんなで家事に協力する。

エ. 感染症を防ぐためにできるだけ自家用車で通勤する。

| | | | | | | | |
|----|-------|--|-----|--|-----|--|---|
| 1 | | | | | | | |
| 問1 | ① | | ② | | ③ | | ④ |
| | 地理的特色 | | | | | | |
| 問2 | ① | | ② | | ③ | | ④ |
| 問3 | (1) | | (2) | | (3) | | |

| | | | | | | | |
|----|--|-----|----|---|---|--|--|
| 2 | | | | | | | |
| 問1 | | 問2 | | | | | |
| 問3 | | | 問4 | | | | |
| 問5 | | 問6 | → | → | → | | |
| 問7 | | | | | | | |
| 問8 | | | | | | | |
| 問9 | | 問10 | | | | | |

| | |
|-----|-----|
| 3 | |
| (1) | (2) |

| | |
|----|-------|
| 4 | |
| 問1 | 問2 |
| 問3 | 問4 |
| 問5 | → → → |

| | |
|----|------|
| 5 | |
| 問1 | |
| 問2 | |
| 問3 | I II |
| 問4 | |
| 問5 | |

| | | | |
|------|--|----|--|
| 受験番号 | | 氏名 | |
|------|--|----|--|

| | | | | | | | | |
|----|--|---|-----|---|-----|---|---|---|
| 問1 | ① | 工 | ② | イ | ③ | ウ | ④ | ア |
| | 地理的特色 南北に長く、暖流や寒流が影響し、気温差が生まれる 季節風が山脈にあたることで降水量に差が生まれる | | | | | | | |
| 問2 | ① | カ | ② | ウ | ③ | エ | ④ | イ |
| 問3 | (1) | イ | (2) | オ | (3) | エ | | |

① 地理的特色：2点×2
他：1点×11

| | | | | |
|----|-----------------------|-----|---------------|---|
| 問1 | ウ | 問2 | エ | |
| 問3 | 卑弥呼 | | 問4 | ア |
| 問5 | イ | 問6 | イ → エ → ウ → ア | |
| 問7 | 遣唐使 | | | |
| 問8 | 禁止されていたキリスト教を信仰し続けたから | | | |
| 問9 | イ | 問10 | 移民 | |

② 問1・問2・問4・問5・問9：1点×5
問3・問6～問8・問10：2点×5

| | | | | |
|---|-----|----|-----|-----|
| ③ | (1) | 密閉 | (2) | 自給率 |
|---|-----|----|-----|-----|

③ 2点×2

| | | | | | |
|---|----|---------------|----|-------|---|
| ④ | 問1 | 工 | 問2 | 小池百合子 | |
| | 問3 | 衆議院 | | 問4 | ア |
| | 問5 | エ → ア → イ → ウ | | | |

④ 問1・問4：1点×2
問2・問3・問5：2点×3

| | | | | | |
|---|----|---------------------------|---|----|---|
| ⑤ | 問1 | イ | | | |
| | 問2 | 日本が占領した地域で軍が費用（物資）を調達するため | | | |
| | 問3 | I | ア | II | イ |
| | 問4 | 野生動物の生息地や食料が失われる | | | |
| | 問5 | エ | | | |

⑤ 問1・問3・問5：1点×4
問2・問4：2点×2

| | | | |
|------|--|----|--|
| 受験番号 | | 氏名 | |
|------|--|----|--|